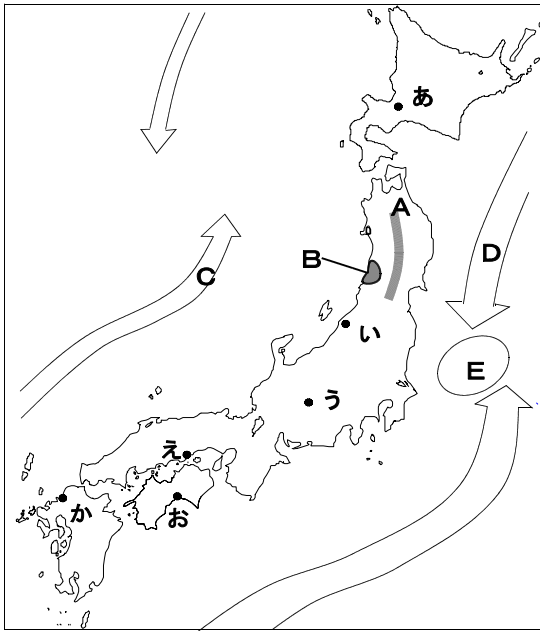


1 日本の国土と環境について、あとの問いに答えなさい。



問1 日本は、まわりを海に囲まれ、南北に細長い形をしています。択捉島から与那国島までを直線で結ぶと、およそどのくらいの距離になりますか。次のア～エから1つ選び、記号で書きなさい。

ア . 800km イ . 1600km ウ . 3300km エ . 5000km

問	
1	

問2 日本は4つの海に囲まれています。太平洋・日本海・オホーツク海ともう1つは何ですか。その海の名を書きなさい。

問	
2	

問3 地図中Aの山脈の名を書きなさい。

問	
3	

問4 地図中Bの平野を次のア～オから1つ選び、記号で書きなさい。

ア . 庄内平野 イ . 秋田平野 ウ . 新潟平野
エ . 濃尾平野 オ . 富山平野

問	
4	

問5 次の表の ~ にあてはまる川の名を書きなさい。

《川の名》	《川の流れの源》	《流域の都市(ダム)》	《流れ込む海》
()	諏訪湖	佐久間ダム	太平洋
()	琵琶湖	枚方	大阪湾
()	日本アルプス	長野	日本海

問	
5	

問6 地図中C, Dの海流の名を書きなさい。

問	C	D
6		

問7 地図中Eのような、寒流と暖流がぶつかる場所を何といいますか。

問8 日本の気候は、下のア～カの6つに区分されます。次の , の説明文はどれにあてはまりますか。

ア～カから選び、それぞれ記号で書きなさい。

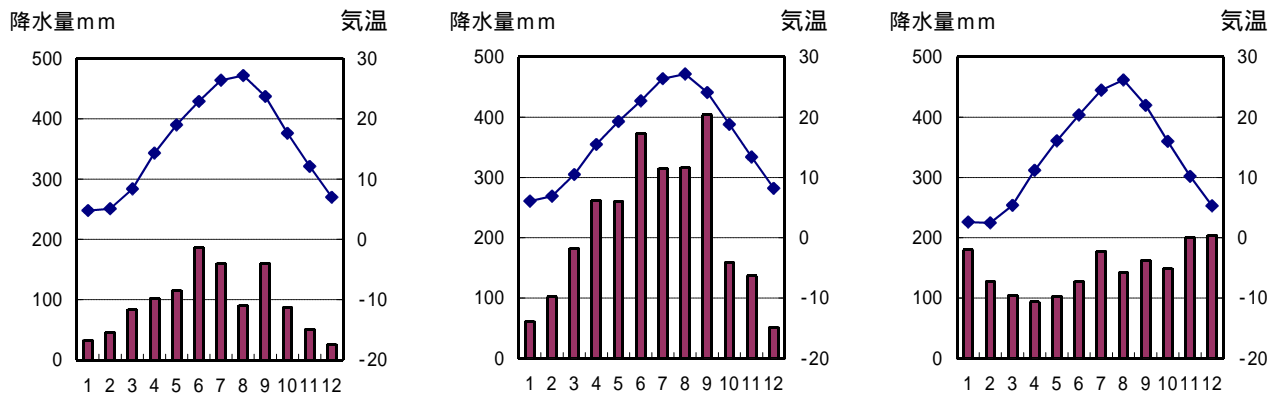
1年を通して降水量が少ない。夏と冬の気温の差がおおきい。

1年を通して降水量が多い。台風が多く、冬でも暖かい。

《気候区分》ア . 日本海側の気候 イ . 南西諸島の気候 ウ . 北海道の気候
エ . 太平洋側の気候 オ . 中央高地の気候 カ . 瀬戸内海の気候

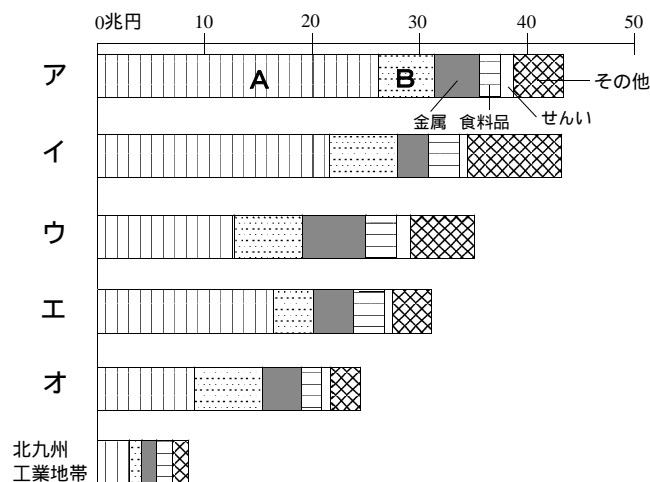
問	
7	
問	
8	

問9 次の気温と降水量のグラフは、地図中あ～かのいずれの都市を表していますか。それぞれ記号で書きなさい。



問	9

2 次のグラフは日本のおもな工業地帯・工業地域の工業生産額を表しています。あとの問いに答えなさい。ただし、東海工業地域、北陸工業地域、京葉工業地域はのぞいていきます。(2000年刊 工業統計表)



問1 A・Bの工業の種類を書きなさい。

A	B
---	---

問2 ア～オの工業地帯・工業地域の名を書きなさい。

ア	イ
ウ	エ
オ	

3 次の文は、歴史上の有名な人物たちが自己紹介をしたものです。文を読んで、あとの問いに答えなさい。

卑弥呼：私は、邪馬台国の女王です。

聖徳太子：私は、おばの推古天皇の政治を助きました。

【 A 】：私は、全国に国分寺と国分尼寺を建てさせ、都には大仏とそれをまつる東大寺をつくらせました。

藤原道長：私は、むすめを天皇のきさきとし、政治に大きな力をふるいました。

北条時宗：私が幕府の政治を行っていたときに、御家人たちの力で外国の攻撃をしりぞけました。

【 B 】：私は、1590年に全国統一をなしとげ、農民の支配をかためるための政策をおこないました。

問1 【 A 】【 B 】にあてはまる人物名を、それぞれ書きなさい。

問	A	B
1		

問2 下線部の卑弥呼がいたころ、日本には文字がなかったのに、卑弥呼や邪馬台国のようすがわかるのはなぜですか。その理由をかんたんに書きなさい。

問	
2	

問3 下線部について、聖徳太子がおこなったことでないものを、次のア～エから1つ選び、記号で書きなさい。

ア．十七条の憲法をつくった。 イ．法隆寺を建てさせた。

ウ．中国(隋)に小野妹子らを送った。 エ．蘇我氏をほろぼした。

問	
3	

問4 下線部で、大仏をつくるのに協力をした人物を、次のア～エから1つ選び、記号で書きなさい。

ア．行基 イ．鑑真 ウ．中臣鎌足 エ．山上憶良

問	
4	

問5 下線部の藤原道長は次のような歌をよんでいます。[]にあてはまることばを書きなさい。

『この世をば わが世とぞ思う []の 欠けたることも なしと思えば』

問	
5	

問6 下線部の外国を、次のア～エから1つ選び、記号で書きなさい。

ア．唐 イ．清 ウ．明 エ．元

問	
6	

問7 下線部について、農民の支配のためにおこなわれた政策を2つ書きなさい。

問	
7	

4 次のA～Eの文を読んで、あとの問いに答えなさい。

A 男子普通選挙の制度が定められる。

B 大日本帝国憲法が公布される。

C 第1回帝国議会が開かれる。

D 日本国憲法が公布される。

E 自由民権運動が盛んになる。

問1 A～Eのできごとのうち、もっとも古いものはどれですか。

記号で書きなさい。

問	
1	

問2 Aの制度で選挙権を認められた男子は、何才以上からですか。

次のア～エから1つ選び、記号で書きなさい。

ア．18才以上 イ．20才以上

ウ．25才以上 エ．30才以上

問	
2	

問3 Bの憲法についてのべた次のア～エから、正しくないものを1つ選び、記号で書きなさい。

ア．天皇が国を治める主権をもち、軍隊をひきいることなどが定められた。

イ．言論や出版の自由などの国民の権利は、まったくみとめられなかった。

ウ．国民に公開されずに、憲法草案がつけられた。

エ．ドイツの憲法をもとにしてつけられた。

問	
3	

問4 Cの帝国議会についてのべた次の文の[]にあてはまることばを書きなさい。

「帝国議会には、衆議院のほかに、皇族・華族、それに天皇が任命する議員などで構成される[]があった。」

問	
4	

問5 Dの日本国憲法によって、主権者となったのはだれですか。

問	
5	

問6 Eの運動を行った板垣退助らが、政府に求めたことをかんたんに書きなさい。

問	
6	