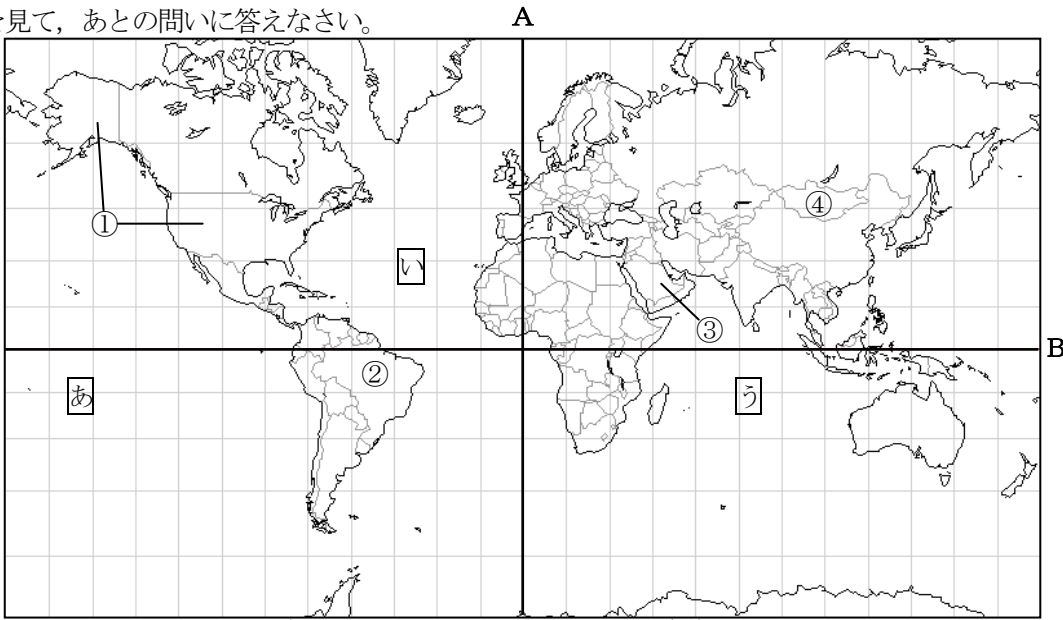


① 次の世界地図を見て、あとの問いに答えなさい。



- 問1 地図中のたての線は北極と南極を結ぶ経線です。そのなかでAの経線は旧グリニッジ天文台を通る線で、この線を0度として東側と西側それぞれを180度に分けています。この旧天文台がある国の名前を答えなさい。
- 問2 地図中の横の線は緯線です。そのなかで0度を通る、Bの緯線を何というか答えなさい。
- 問3 地図中のたて、横の線は1目盛がそれぞれ15度です。西経105度、北緯45度が交わる場所にある国を地図中①～④からひとつ選び、記号で答えなさい。
- 問4 地図中③と④の国がある大陸の名前を答えなさい。
- 問5 地図中「あ」～「う」の海の名前を正しく答えているものを次のア～エからひとつ選び、記号で答えなさい。
- ア 「あ」太平洋 「い」大西洋 「う」インド洋 イ 「あ」大西洋 「い」太平洋 「う」インド洋
ウ 「あ」太平洋 「い」インド洋 「う」大西洋 エ 「あ」大西洋 「い」インド洋 「う」太平洋
- 問6 ゆうき、ななこ、ひかる、たつおの4人がそれぞれ地図中①～④の国について調べました。それぞれが説明している国を①～④から選び、記号で答えなさい。

ゆうき「この国では平原を移動しながら馬や羊を飼う遊牧民がくらしています。」	ななこ「この国には世界最大の流域面積の川が流れています。」
ひかる「この国から日本はたくさんの小麦と大豆を輸入しています。」	たつお「この国から日本はたくさんの石油を輸入しています。」

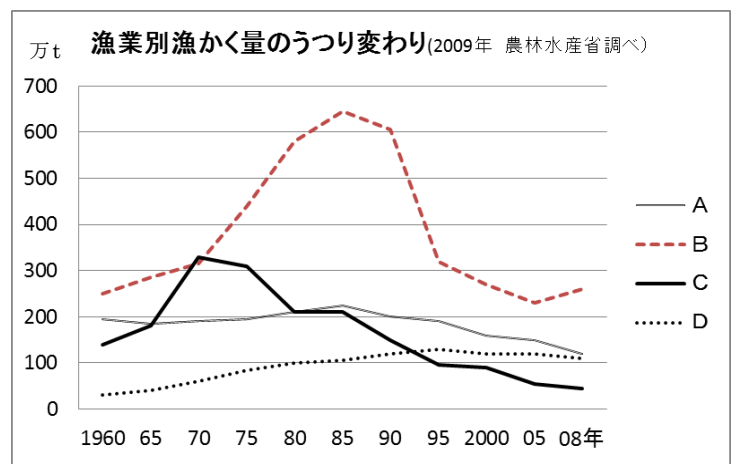
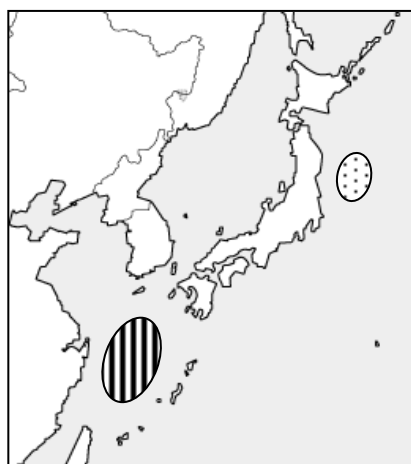
問1		問2		問3	
問4	大陸	問5		問6	ゆうき ななこ ひかる たつお

② 右の地図とグラフを見て、あとの問いに答えなさい。

問1 地図中の(⊙)の地域について、次の問いに答えなさい。

- ここは暖流と寒流がぶつかる場所で魚が集まる良い漁場となっています。このように暖流と寒流がぶつかる場所を何というか答えなさい。
- ここに魚が集まる理由を説明しなさい。
- ここに流れこむ暖流を次のア～エからひとつ選び、記号で答えなさい。

ア リマン海流 イ 千島海流
ウ 対馬海流 エ 日本海流



問2 地図中の(⊖)の地域について、次の問いに答えなさい。


- この海の名前を答えなさい。
- このあたりは水深200mくらいまでの、海底のけいしゃがゆるやかな海が広がっています。このようにところを何というか答えなさい。

問3 右のグラフは『漁業別漁かく量のうつり変わり』をあらわしたものです。グラフ中のA～Dのうち、遠洋漁業をあらわしているのはどれですか。記号で答え、その理由を「200海里」の語句を使用して、説明しなさい。

問1	(1)	(2)
問1	(3)	問2 (1) (2) 問3 (記号)
問3	(理由)	

受験番号	
------	--

3 日本の世界遺産に関する次の写真や絵A～Dについて、あとの問いに答えなさい。



問1 Aは、京都の北山に建てられたある人物の別荘です。次の問いに答えなさい。

- (1) この別荘を建てた人物の名前を答えなさい。
- (2) この別荘を建てた人物がおこなった政治として正しいものを、次のア～エからひとつ選び、記号で答えなさい。
ア 明との国交を開き、貿易をはじめて大きな利益を得た。 イ 2度にわたって朝鮮に大軍を送りこんだ。
ウ 全国に国分寺と国分尼寺を建てるように命じた。 エ シャクシャインを中心に立ち上がったアイヌの人々の反乱をしずめた。
- (3) この時代に成立したのものとして正しいものを、次のア～エからひとつ選び、記号で答えなさい。

ア 枕草子 イ 歌舞伎 ウ 万葉集 エ 能

問2 Bは『東海道五十三次』の一部で、世界文化遺産の「富士山」がえがかれています。次の問いに答えなさい。

- (1) この絵画をえがいた人物の名前を答えなさい。
- (2) この時代におこった、日本の古典を研究し、仏教などが伝わる前の日本人の考え方を明らかにしようとした学問を何というか答えなさい。

問3 Cは昨年世界文化遺産に登録された国営の工場のようなすをえがいたものです。次の問いに答えなさい。

- (1) 群馬県につくられたこの工場の名前を答えなさい。
- (2) この時期にみられた文明開化による世の中の変化について述べた文として誤っているものを、次のア～エからひとつ選び、記号で答えなさい。
ア 都市ではランプやガス灯がとるようになった。 イ カルタやパンなどのことばが伝わった。
ウ くつをはき、洋服を着る人があらわれた。 エ 鉄道がしかれ、人力車や馬車が走るようになった。

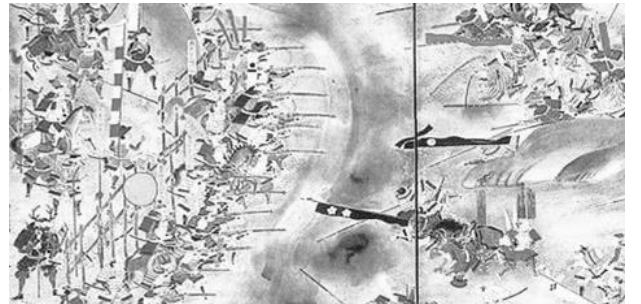
問4 Dの建物について、次の問いに答えなさい。

- (1) 広島に原爆が投下されたのは、西暦何年何月何日か答えなさい。
- (2) 日本が戦争への道を進んでいった時期のできごとを示した次のア～エを、年代の古い順に並べ、記号で答えなさい。なお、3番目にアがきます。
ア 日中戦争がおこる。 イ ハワイのアメリカ軍基地を攻撃する。 ウ 国際連盟から脱退する。 エ 満州事変がおこる。

問1	(1)	(2)	(3)	問2	(1)	(2)						
問3	(1)	(2)	問4	(1) 西暦	年	月	日	(2)	→	→	ア	→

4 右の絵は、1575年におこった織田・徳川連合軍と甲斐の武田軍との戦いのようなすをえがいたものです。あとの問いに答えなさい。


- 問1 織田・徳川連合軍（絵の左側）がこの戦いで、初めて大量に使用したとされている武器は何か答えなさい。
- 問2 この戦いの名前を答えなさい。
- 問3 織田信長がおこなったこととして正しいものを、次のア～エからひとつ選び、記号で答えなさい。
ア 商人や職人が自由に商工業をすることを禁止した。 イ 室町幕府をほろぼした。
ウ 農民が刀などの武器を持つことを禁止した。 エ 日本人が外国に行くことを禁止し、貿易を制限した。



問1		問2		問3	
----	--	----	--	----	--

5 右の年表を見て、あとの問いに答えなさい。

- 問1 年表中の下線部について、この条約によって日本の領土となった地域を次のア～エからひとつ選び、記号で答えなさい。
ア 沖縄諸島 イ 小笠原諸島 ウ 千島列島 エ 遼東半島
- 問2 年表中の□にあてはまる人物の名前を答えなさい。
- 問3 右のふうし画はある戦争の直前の東アジアの関係をえがいたものですが、その戦争とは何ですか。年表中の㉞～㉟から選び、記号で答えなさい。
- 問4 次のできごとは、年表中のA～Dのどの時期のことですか。それぞれ記号で答えなさい。
(1) 韓国が日本に併合された。 (2) 八幡製鉄所が開業した。



年代	できごと
1875	ロシアと領土を交換する条約を結ぶ
	①
1885	□が最初の内閣総理大臣になる
	②
1894	日清戦争がおこる……③
	④
1904	日露戦争がおこる……⑤
	⑥
1914	第一次世界大戦がおこる……⑦

問1		問2		
問3		問4	(1)	(2)