

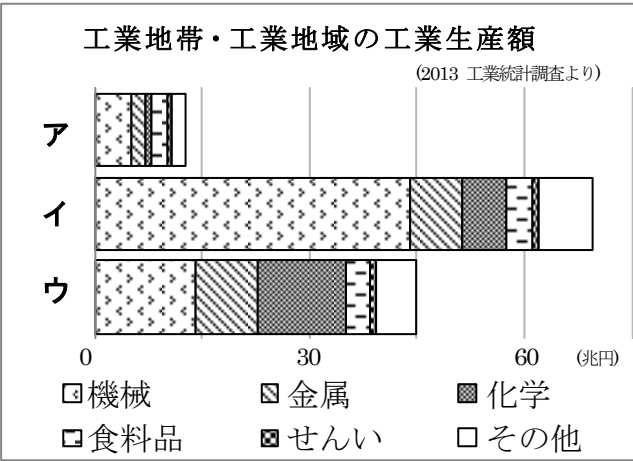
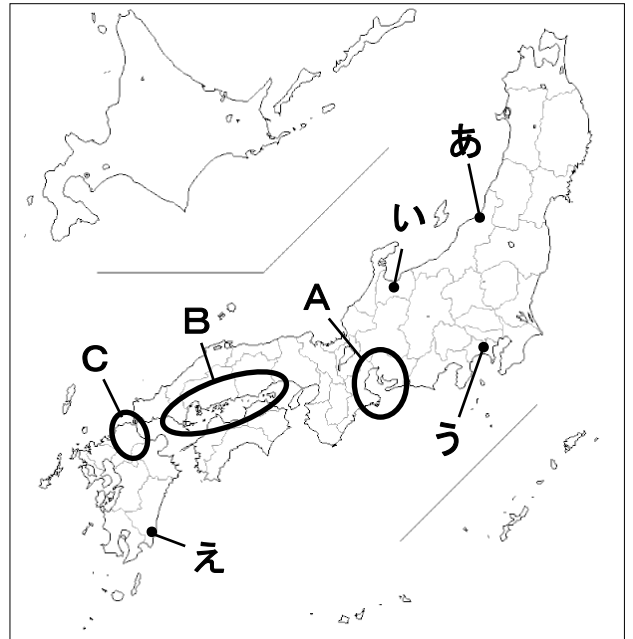
受験番号	
------	--

1 次の文章や資料を見て、あとの問いに答えなさい。

日本には多くの①工業地帯や工業地域があり、昼夜を問わず生産活動が行われている。工業製品を作り出すためには、様々な原料やエネルギー資源が必要になる。日本は資源が少ないため、原料やエネルギー資源を海外から輸入し、工業製品をつかって輸出するという(1)貿易を行ってきた。しかし、1990年ごろから外国にある日本の会社の工場に部品や機械などを輸出することが増え、貿易のあり方も変わってきている。

工業がさかんになった1960年ごろから、さまざまな公害がおきはじめた。右の地図中のAのある地域では、工場から出るけむりによって、(2)になる患者が増えた。また、熊本県の八代海のまわりでは(3)病が発生し、手足がしびれたり、目や耳が不自由になったりする人が出た。鉱山のはい水にふくまれるカドミウムによって、骨が折れやすくなる②イタイイタイ病も多くの人々を苦しめた。国は③1967年に公害を防止するための法律をつくり、公害の種類や守るべき基準などを決めて、公害が発生しないようにつとめている。

④便利で豊かな生活だけを求めるのではなく、環境や人々の健康のことまで考えた生産活動を目指して、私たち一人ひとりにも、責任ある行動が求められている。



問1 文中の(1)～(3)にあてはまる語句を答えなさい。

問2 文中の下線部①について、右の資料を見て、次の問いに答えなさい。

(1) 地図中のA～Cの工業地帯や工業地域は、それぞれ何とよばれているか、答えなさい。

(2) 右の工業生産額をまとめたグラフは、A～Cのどの工業地帯や工業地域のものか。

A～ウの記号で答えなさい。

(3) 大きな工業地帯や工業地域は、海に近い場所に多くみられるが、それはなぜか。

理由を説明しなさい。

問3 文中の下線部②がおきた場所を右上の地図のあ～えから1つ選び、記号で答えなさい。

問4 文中の下線部③について、この法律を何というか、答えなさい。

問5 文中の下線部④のような活動の例としてあてはまらないものを次のア～エから1つ選び、記号で答えなさい。

ア. 小さな魚が逃げられるよう、漁師があみの目を大きくする。

イ. ハイブリッドカーを選ぶことで、ガソリンの使用量をおさえる。

ウ. 米の生産量を増やすため、農薬や化学肥料をたくさん使う。

エ. 鉄をつくる過程で出る熱やガスを、発電に利用する。

問1	(1) 貿易	(2)	(3) 病
問2	(1) A	B	C
	(2) A	B	C
	(3)		
問3	問4	問5	

2 次の①～⑤の下線部が正しければ○と答え、まちがっていれば正しい答えを書き入れなさい。

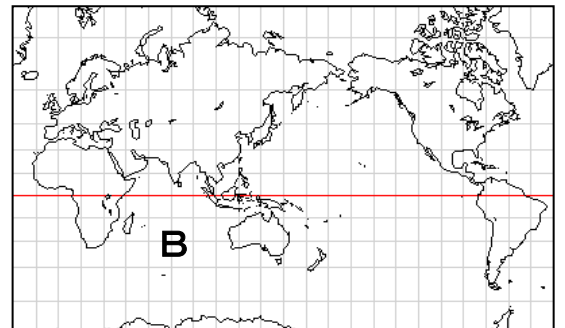
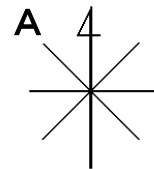
① 右の図は、地図上の八方位を示す記号であるが、Aの方角は北西方向である。

② 日本の東のはしに位置する島は、択捉島である。

③ 世界の六大陸のうち、面積が最も広いのは、アフリカ大陸である。

④ 世界の三大洋のうち、右下の地図のBの海は、大西洋とよばれている。

⑤ 「Y」は警察署を示す地図記号である。



①	②	③
④	⑤	

受験番号	
------	--

3 右の年表を見て、あとの問いに答えなさい。

- 問1 年表中の (A) にあてはまる語句を答えなさい。
- 問2 年表中の下線部①は何の戦いか、答えなさい。
- 問3 年表中の下線部②の室町幕府を開いたのは何氏か、次のア～エから1つ選び、記号で答えなさい。
- 問4 年表中の下線部③について、右下の写真の戦いはどのようなものであったか、次の文を読んで、あとの問いに答えなさい。

ア. 藤原氏 イ. 平氏 ウ. 源氏 エ. 足利氏

この戦いは、織田信長と (B) との戦いです。左の軍は (C) を構えている様子がわかります。また、右の軍は (D) に乗って戦っています。

(1) 上の文の (B) にあてはまるものを次のア～エから1つ選び、記号で答えなさい。

ア. 北条氏 イ. 上杉氏 ウ. 武田氏 エ. 真田氏

(2) 上の文の (C) ・ (D) にあてはまる語句を答えなさい。

問5 年表中の下線部④について、正しいものを次のア～エから2つ選び、記号で答えなさい。

- ア. ねんぐを納める百姓の名前を記録した。
- イ. 土地や人々は天皇のものであるとした。
- ウ. ものさしをつかって、田畑の面積をはかった。
- エ. 百姓たちの土地を耕す権利を取りあげた。

- 問6 年表中の (E) にあてはまる語句を答えなさい。
- 問7 年表中の (F) にあてはまる語句を次のア～エから1つ選び、記号で答えなさい。

ア. 征夷大將軍 イ. 摂政 ウ. 関白 エ. 執権

問8 年表中の下線部④・⑤について、検地と刀狩によって、どのように世の中がかわったか、簡単に説明しなさい。

問9 年表中の (G) にあてはまる語句を次のア～エから1つ選び、記号で答えなさい。

ア. 征夷大將軍 イ. 摂政 ウ. 関白 エ. 執権

問10 年表中の (H) ～ (J) にあてはまる語句を答えなさい。

年代	できごと
1549	スペインの宣教師によって、(A) が鹿児島へ伝えられる
1560	①織田信長が今川義元を破る
1573	②室町幕府がほろびる
1575	③長篠の戦いがおこる
1582	秀吉が④検地を始める
1583	秀吉が (E) 城を築く
1585	秀吉は朝廷から (F) に任じられ、後に豊臣と名のる
1588	秀吉が⑤刀狩を命じる
1590	秀吉が全国を統一する
1600	関ヶ原の戦いがおこる
1603	徳川家康は朝廷から (G) に任じられ、江戸に幕府を開く
1615	全国の大名を取りしめるため (H) を定める
1635	(H) を改め、(I) の制度を加える
1641	オランダ人を出島に移し、(J) が完成する



ながしのかつせんずびょうぶ 【長篠合戦図屏風】

問1		問2		問3	
問4	(1)	(2)	C	D	問5
問6		問7			
問8					問9
問10	H	I		J	

4 次の①～⑥の文が正しければ○と答え、まちがっていれば×と答えなさい。

- ① 元軍は2度にわたって日本にせめてきたが、御家人たちは、集団戦法をとって元軍と戦った。
- ② 京都の僧であった雪舟は、自然を題材とした水墨画を数多くえがいた。
- ③ 江戸時代の浮世絵は、世界の絵画にも大きな影響をあたえ、ゴッホの作品の中にも浮世絵の表現技法が取り入れられている。
- ④ 明治新政府は廃藩置県を行い、大名がこれまで治めていた領地と領民を天皇に返させた。
- ⑤ 帝国議会は、衆議院と参議院の2つからなっていた。
- ⑥ 1914年に、ヨーロッパで第一次世界大戦がおこり、オーストリア・ドイツ側が勝って終わった。

①	
②	
③	
④	
⑤	
⑥	