

受験番号	
------	--

1 次の会話文と右の地図を見て、あとの問いに答えなさい。

あきら どうしたの、この地図…。

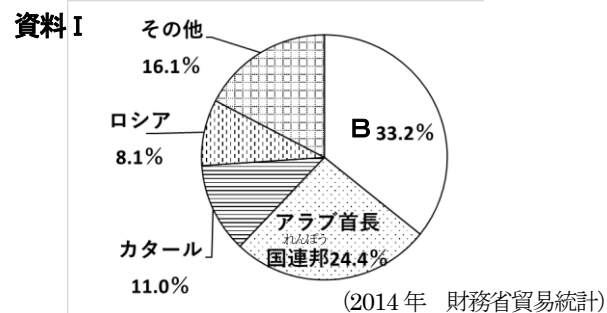
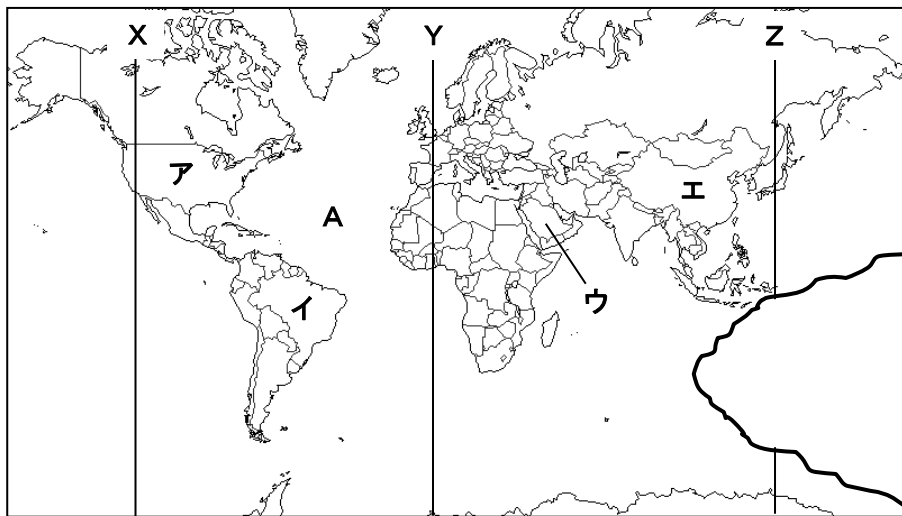
ひろし 今年のサッカーのワールドカップ開催国を調べようと思つたら、うっかりやぶっちゃった。

あきら それは大変。( )大陸がなくなってる。でも調べていた①ロシアは無事だったようだね。

ひろし うん。そういえば、日本は②北方領土でロシアと問題を抱えているって聞いたけど。

あきら その通り。でも北方領土は今でもロシアが不法に占領を続けているんだ。日本は周りを海に囲まれていて、③漁業は

昔から盛んでたくさん水あげ量があつたけど、④石油など資源は少ないから輸入に頼っている。ロシアからも輸入しているし、逆にいろいろなものを輸出もしている。おたがいにさまざまな分野で関わりあっているから、仲良くしていかななくては行けない。話し合いは大事だね。



問1 地図中X～Zから0度の経線を1つ選び、記号で答えなさい。

問2 地図中Aの海洋名を答えなさい。

問3 会話文中の( )に適する語句を答えなさい。

問4 下線部①について、ロシアがある大陸名を答えなさい。

問5 下線部②について、北方領土のうち最も北に位置する島を答えなさい。

問6 下線部③について、日本の漁業の説明としてまがっているものを次のア～エから1つ選び、記号で答えなさい。

ア 日本近海は寒流と暖流がぶつかり、プランクトンが多い良い漁場である。 エ 日本の漁かき高が増え、魚の輸入量が減ってきている。

ウ 日本近海は大陸だながひろがり、プランクトンが多い良い漁場である。 エ 栽培漁業で稚魚まで育て自然に返し、魚を増やしている。

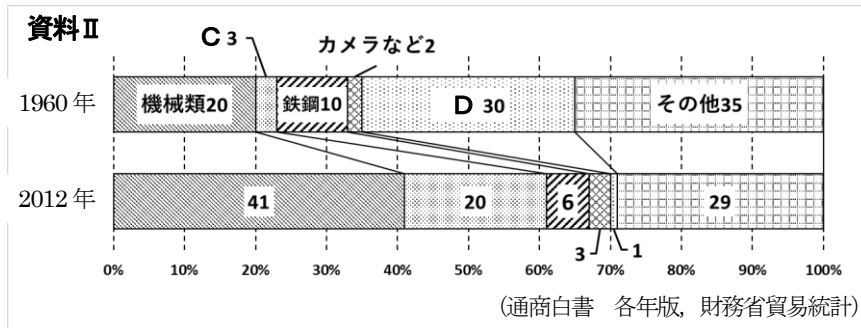
問7 下線部④について、資料Ⅰは、日本の石油輸入相手国のグラフです。Bに適する国を地図中のア～エから1つ選び、記号で答えなさい。

問8 日本の貿易について、次の問いに答えなさい。

(1) 資料Ⅱは、日本の主な輸出品の取りあつかい額の割合の変化を表したグラフです。グラフ中のC・Dに適する輸出品を次のア～エから選び、それぞれ記号で答えなさい。

ア せんい品 イ 石油 ウ 食料品 エ 自動車

(2) 日本は1980年代から、原料を輸入し優れた工業製品をつくって輸出することで発展してきましたが、このような貿易を何といひますか。



問1		問2		問3	
問4		問5		問6	
問8	(1)C	D	(2)		

2 次の①～⑤の文を読んで、下線部が正しければ○と答え、まちがっていれば正しく書き直しなさい。

① 治水によって、川の流れや水路などを改良して水害を防ぐとともに、水をくらしや産業に利用できるようになる。

② 琵琶湖や釧路湿原は、水鳥などが集まる重要な湿地を守るためのワシントン条約に登録されている。


③ 北海道で昔から生活していたのは、先住民であるアボリジニの人々である。

④ 現在、日本の工業地帯・工業地域で最も工業生産額が大きいのは阪神工業地帯である。

⑤ 地震などの災害時、国や都道府県、市町村による公助に頼るだけでは限界があるので、自分の命は自分で守ることや、地域や近所の人がおたがいに協力して助け合うことが重要になっている。

①		②		③	
④		⑤			

3 日本の世界遺産に関する次の写真や絵A～Dを見て、それぞれの時代や地域についてのあとの問いに答えなさい。



問1 Aは平氏一門があつく信仰した神社です。次の問いに答えなさい。

- 広島県にあるこの神社の名前を答えなさい。
- 源頼朝の弟で、平氏をほろぼした人物の名前を答えなさい。

問2 Bは15世紀に尚氏によって統一された国の都に築かれた城です。次の問いに答えなさい。

- 江戸時代、この国は薩摩藩にせめられ、その支配を受けるようになりました。日本・中国・東南アジアとの貿易で栄えたこの国の名前を答えなさい。
- 江戸時代に成立したものとして正しいものを、次のア～エから1つ選び、記号で答えなさい。

ア 歌舞伎 イ 生け花 ウ 茶の湯 エ 能

- 江戸時代に始められた農業の工夫として正しいものを、次のア～エから1つ選び、記号で答えなさい。

ア 西日本を中心に麦を裏作とする二毛作が広まった。 イ 備中ぐわやとうみなどの農具が使用されるようになった。  
ウ 草木の灰などを肥料として使うようになった。 エ 牛や馬を使って、田畑を広く耕せるようになった。

問3 Cは日清戦争で得た賠償金の一部を使って建設された工場です。次の問いに答えなさい。

- 福岡県に建設されたこの製鉄所の名前を答えなさい。
- 日清戦争について述べた文として正しいものを、次のア～エから1つ選び、記号で答えなさい。  
ア この戦争に勝った日本は、台湾などを日本の領土とした。  
イ ペキンの近くでしようとうつがおり、日本の予想に反して全面戦争となった。  
ウ 多くのぎせい者を出しながらも、日本海海戦における東郷平八郎らの活躍もあり、勝利した。  
エ ヨーロッパを主な戦場としてはじまり、日本も戦争に加わり、戦勝国のひとつとなった。
- この時代に国際社会で活躍した科学者で、ヘビ毒の研究で成果をあげ、黄熱病の研究に取り組んだが、自身も黄熱病で死亡した人物の名前を答えなさい。

問4 Dは昨年世界文化遺産に登録された、長崎県にある教会です。次の問いに答えなさい。

- 江戸時代の鎖国の間も、長崎で貿易を許されたヨーロッパの国はどこか、次のア～エから1つ選び、記号で答えなさい。

ア イギリス イ スペイン ウ ポルトガル エ オランダ

- 太平洋戦争では長崎に原爆が投下され、日本は降伏しました。ラジオで日本の降伏が国民に伝えられたのは西暦何年何月何日か答えなさい。

問1	(1)	(2)	問2	(1)	(2)	(3)
問3	(1)	(2)	(3)	問4	(1)	(2)西暦 年 月 日

4 次の文章を読んで、あとの問いに答えなさい。

時代[ ]に日本各地に広がった米作りは、その後の日本の歴史に大きな影響をあたえました。身分・貧富の差が生まれ、人々の集団が大きくなってくがつかられていったのです。その後、①中国にならって国のしくみが整えられると、政府は人々に田を割りあて、そこからの収穫などを税としてとり立てるようになりました。奈良時代の農民は米や地方の特産物を税として納める以外に、兵士として都や②北九州の守りにつくことがありました。そのため、農民のなかには重い負担にたえかねて、にげ出す者もいました。

問1 文中の[ ]にあてはまる語句を答えなさい。

問2 下線部①について、この時期のできごとを説明した次のア～エを年代の古い順番に並べ、記号で答えなさい。

ア 中国の唐の都にならった平城京が奈良につくられた。 イ 聖徳太子が、中国の隋に使者を送り、十七条の憲法をつくるなどした。  
ウ 古墳といわれる王や豪族の墓がたくさんつくられた。 エ 中大兄皇子と中臣鎌足が、蘇我氏をたおして、大化の改新をおこなった。

問3 下線部②について、この兵士がよんだ歌などが収められている歌集を何というか答えなさい。

問1	問2	→	→	→	問3
----	----	---	---	---	----

5 右の年表を見て、あとの問いに答えなさい。

問1 下線部①について述べた文として正しいものを、次のア～エから1つ選び、記号で答えなさい。

- ア 下田と函館の2つの港を開くことが決められた。  
イ 輸入品に対する関税を自由に決める権利が日本に認められた。  
ウ 外国人が日本で罪を犯した場合、日本の法律で処罰できないことが決められた。  
エ この条約で貿易がはじまり、ものの値段が下がって人々の生活が楽になった。

問2 下線部②の戦争の中で、唯一陸上での戦闘がおこなわれた都道府県の名前を答えなさい。

問3 下線部③のとき、日本がアメリカとの間に結んだ条約を何というか答えなさい。

問4 下線部④のころ多くの家庭に広まっていた、「三種の神器」とよばれた家庭電化製品として正しいものを、次のア～エから1つ選び、記号で答えなさい。

ア 電気冷蔵庫 イ クーラー ウ パソコン エ カラーテレビ

問5 次のできごとは、年表中のA～Dのどの時期のことですか。それぞれ記号で答えなさい。

- 朝鮮戦争がおこる
- 大日本帝国憲法が公布される

問1	問2	問3	問4	問5	(1)	(2)
----	----	----	----	----	-----	-----

年	できごと
1858	①アメリカなど5カ国と通商条約を結ぶ
	A
1904	日露戦争がおこる
	B
1941	②太平洋戦争がおこる
	C
1951	③サンフランシスコ平和条約を結ぶ
	D
1964	④東京オリンピックが開かれる